

# Berekraftig naturmangfald



Namn: \_\_\_\_\_

Klasse: \_\_\_\_\_



# Nøkkelseatingsark

## Nøkkelseitingar

	<b>Tal på forskjellige artar</b>	
	<b>Teljestrekar</b>	<b>Sum</b>
<b>Blomar</b>		
<b>Strå</b>		
<b>Tre/buskar</b>		
<b>Mose</b>		
<b>Andre plantar</b>		
<b>Sopp</b>		
<b>Insekt</b>		
<b>Andre dyr</b>		

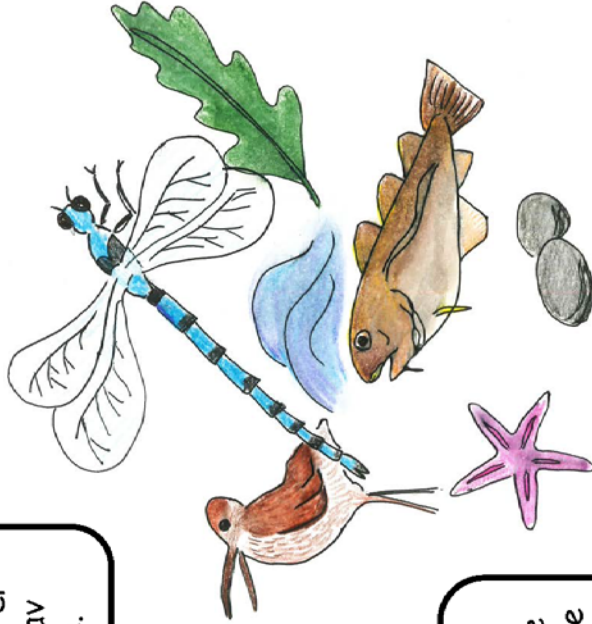
# Kvifor er det viktig med naturmangfold?



Fordi alt heng saman med alt, og alle artar er avhengige av kvarandre.



Det er ikkje viktig. Eg skulle ønske det berre fanst hestar og kattar. Ikkje mygg ialfall!

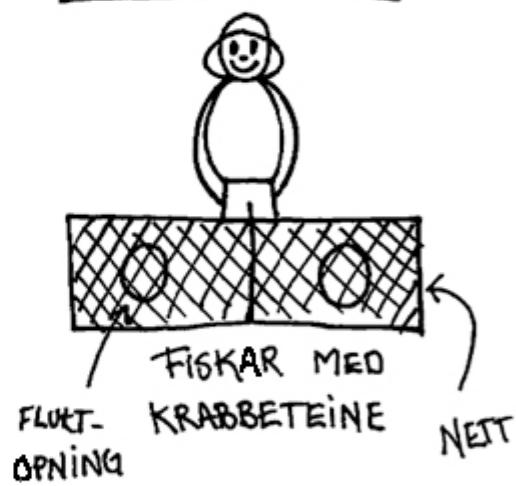


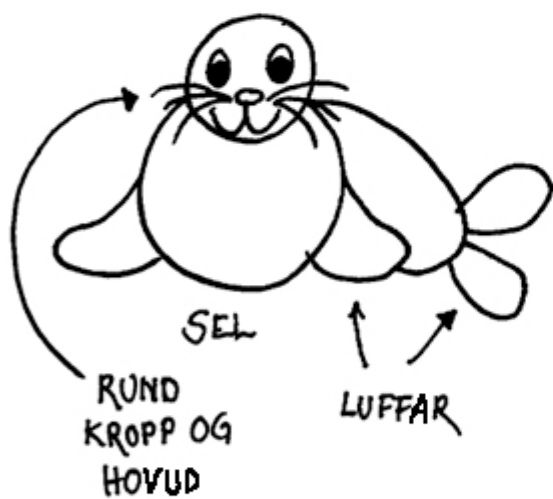



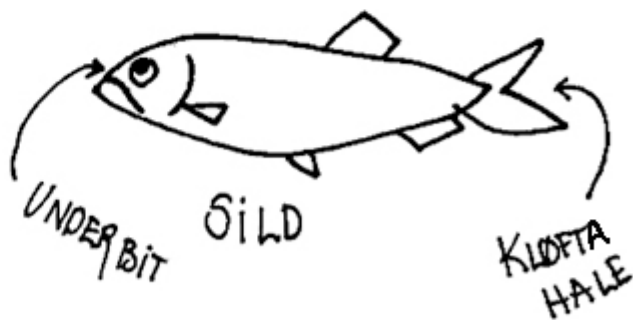

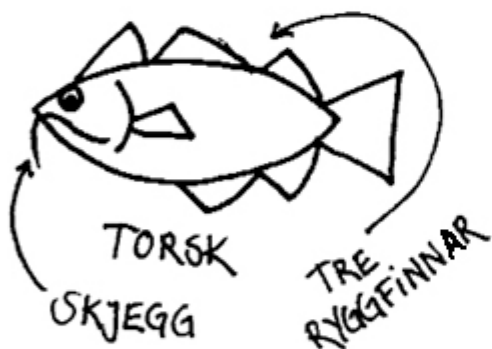
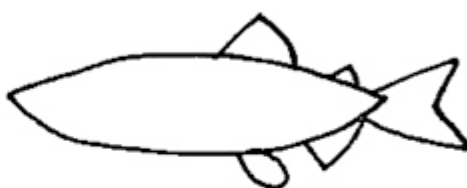
Fordi vi bruker ulike artar til ulike ting: mat, medisin, materiale.

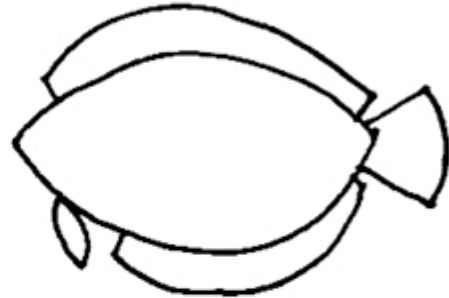
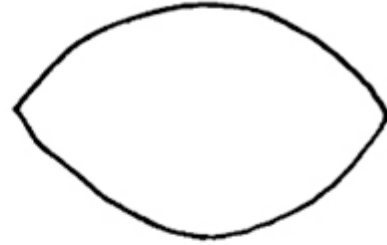
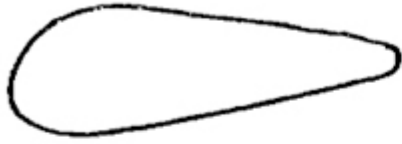


Fordi alle artar har like stor rett til å leve.

# Kva meiner du?







STEINBIT  
KRAFTIGE  
TENNER

LANG  
RYGG-  
OG GATTFINNE




FLYNDRE  
TO AUGER PÅ  
OVERSIDA  
(AUGESIDA)

FLAT-  
TRYKT  
KROPP



Tenk dykk at figuren nedanfor er eit bilde av eit område med lupinar sett ovanfrå. Lupinane skal teljast så nøyaktig som det går utan å telje ein og ein lupin.

Del opp området på ein best mogleg måte for å kunne telje kor mange lupinar det er:



Gjer no det same på bildet nedanfor: Del opp området på ein best mogleg måte for å kunne telle kor mange lupinar det er.



For kvar blome på lupinen blir det éin belg med 4–10 frø. Kor mange frø får vi i gjennomsnitt frå kvar belg? \_\_\_\_\_

Blomane i blomeklassen på lupinen blir til belgar med frø. På bildet nedanfor skal de berre telje kor mange blomar det er i ein del av blomeklassen. De skal bruke kort tid på sjølve teljinga. Derfor må de først bli einige om kor/kva de skal telje. De kan godt teikne strekar, ringar osv. på bildet.

Kor mange blomar meiner de det er i blomeklassen til denne lupinen? \_\_\_\_\_



Kor mange frø meiner de denne lupinen vil produsere i løpet av ei blomstring?

\_\_\_\_\_