

# Bærekraftig naturmangfold



Foto: Kristin Bøhle, CC BY SA

## Begrepsark

<b>Begrep</b>	<b>Forklaring</b>


# Nøkkelsegningsark

## Nøkkelsegninger


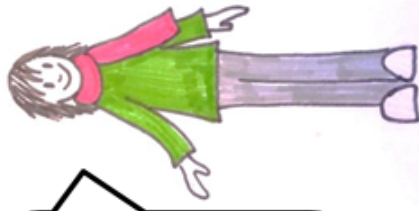
	<b>Antall forskjellige arter</b>	
	<b>Tellestreker</b>	<b>Sum</b>
<b>Blomster</b>		
<b>Strå</b>		
<b>Trær/busker</b>		
<b>Mose</b>		
<b>Andre planter</b>		
<b>Sopp</b>		
<b>Insekter</b>		
<b>Andre dyr</b>		

# Hvorfor er det viktig med naturmangfold?

Fordi alt henger sammen med alt, og alle arter er avhengige av hverandre.




Det er ikke viktig. Jeg skulle ønske det bare fantes hester og katter. Ikke mygg i hvert fall!



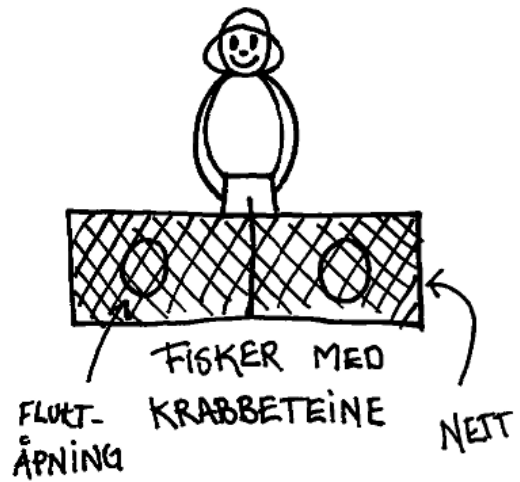


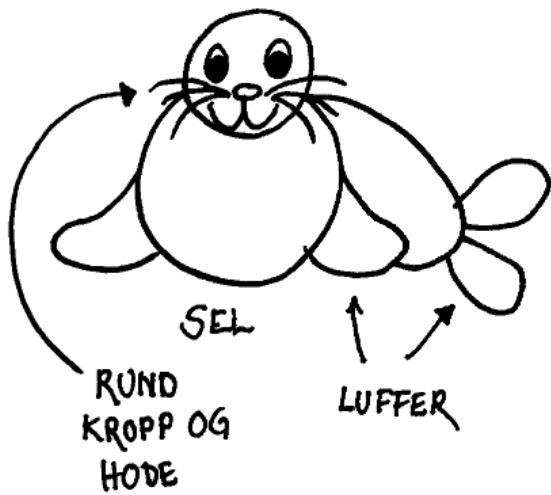


Fordi vi bruker ulike arter til ulike ting: mat, medisin, materialer.

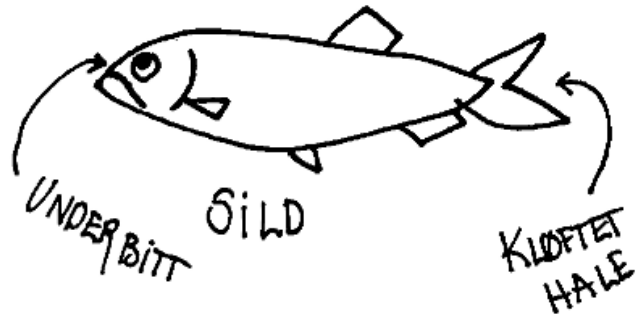

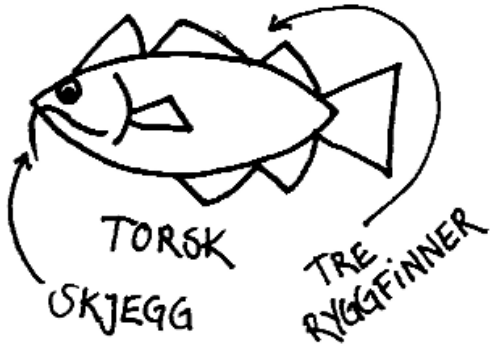

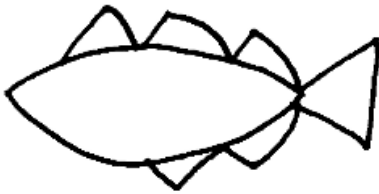


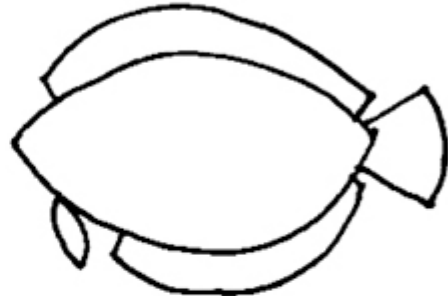
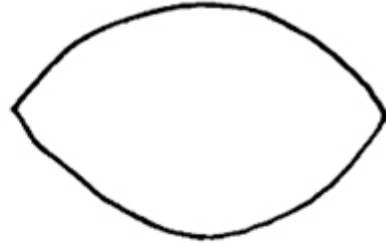
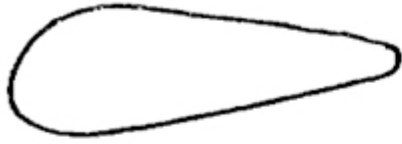
Fordi alle arter har like stor rett til å leve.



# Hva mener du?







STEINBIT  
KRAFTIGE  
TENNER

LANG  
RYGG-  
OG GATTFINNE




FLYNDRE  
TO ØYNE PÅ  
OVERSIDEN  
(ØYESIDEN)

FLAT-  
TRYKT  
KROPP



Tenk dere at figuren nedenfor er et bilde av et område med lupiner sett ovenfra. Lupinene skal telles så nøyaktig som det går uten å telle en og en lupin.

Del opp området på en best mulig måte for å kunne telle antall lupiner



Gjør nå det samme på bildet nedenfor: Del opp området på en best mulig måte for å kunne telle antall lupiner.



For hver blomst på lupinen blir det én belg med 4–10 frø. Hvor mange frø får vi i gjennomsnitt fra hver belg? \_\_\_\_\_

Blomstene i blomsterklasen på lupinen blir til belger med frø. På bildet nedenfor skal dere bare telle antall blomster i en del av blomsterklasen. Dere skal bruke kort tid på selve tellingen. Derfor må dere først bli enige om hvor/hva dere skal telle. Dere kan godt tegne streker, ringer osv. på bildet.

Hvor mange blomster mener dere det er i denne lupinens blomsterklase? \_\_\_\_\_



Hvor mange frø mener dere denne lupinen vil produsere i løpet av en blomstring?

\_\_\_\_\_